

Görsel / Grafik / Tablo Okuma - 2

1. Fatih, Büşra, Sinan ve Ayşe adlı kişilerden her biri Antalya, Erzurum, Konya ve İstanbul şehirlerinden birine seyahat etmişlerdir. Her biri, seyahat ederken uçak, tren ve otobüsten herhangi birini kullanmıştır.

Bu kişilerin gideceği şehirler ve giderken kullanacakları araçlarla ilgili bilinenler şunlardır:

- İki kişi uçakla yolculuk etmiştir.
- Sinan Konya'ya trenle gitmiştir.
- Kadın yolculardan biri, İstanbul'a otobüsle gitmiştir.
- Büşra Erzurum'a gitmiştir.

Bu metinde anlatılanlar aşağıdaki tabloların hangisinde doğru gösterilmiştir?

A)

	Uçak	Tren	Otobüs
Fatih	Antalya		
Büşra			İstanbul
Sinan		Konya	
Ayşe	Erzurum		

B)

	Uçak	Tren	Otobüs
Fatih	Antalya		
Büşra	Erzurum		
Sinan		Konya	
Ayşe			İstanbul

C)

	Uçak	Tren	Otobüs
Fatih			Antalya
Büşra	Erzurum		
Sinan		Konya	
Ayşe			İstanbul

D)

	Uçak	Tren	Otobüs
Fatih			İstanbul
Büşra	Erzurum		
Sinan		Konya	
Ayşe	Antalya		

2. Mehmet, "Türkiye'nin Doğal Güzellikleri" konulu bir ödev hazırlayacaktır.

Mehmet, bu ödevde aşağıdaki görsellerden hangisini kullanabilir?

A)



B)



C)




D)



3. Aşağıdakilerden hangisi "Birlikten kuvvet doğar." atasözüyle ilgili değildir?


A)




B)



C)

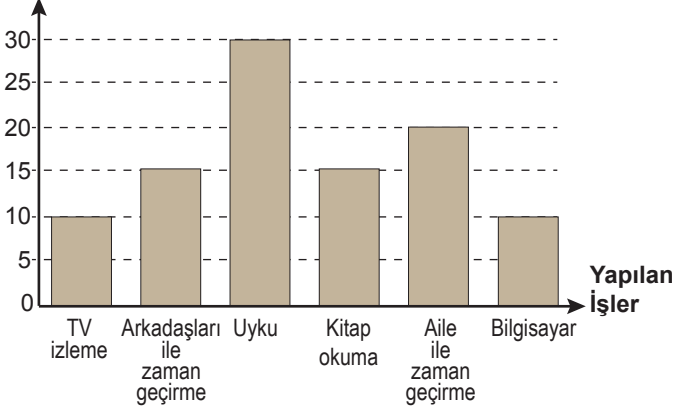


D)



Görsel / Grafik / Tablo Okuma - 2

4. Zaman Oranı (%)



Yukarıdaki grafikte Esra'nın bir gün içinde yaptıklarına ayırdığı zaman oranları gösterilmiştir.

Bu grafiğe göre aşağıdakilerden hangisi söylenemez?

- A) Ailesiyle, arkadaşlarıyla geçirdiğinden daha fazla zaman geçirmektedir.
- B) En çok, uykuya zaman ayırmaktadır.
- C) Kitap okumaya bilgisayardan daha az zaman ayırmaktadır.
- D) Televizyon izlemeye ve bilgisayara ayırdığı zaman eşittir.

5. Aşağıdaki tabloda 2010 yılının ilkbahar ve yaz aylarında şiir, roman, deneme ve biyografi türündeki kitapların satış sayısı verilmiştir.

AYLAR KİTAPLAR	İLKBAHAR			YAZ		
	MART	NİSAN	MAYIS	HAZİRAN	TEMMUZ	AĞUSTOS
ŞİİR	17	20	12	23	36	30
ROMAN	73	76	64	91	139	145
DENEME	28	20	30	40	54	61
BİYOGRAFI	11	10	7	15	34	27

Bu tablodan aşağıdakilerin hangisine ulaşamaz?

- A) Bütün türlerde satış sayısının en az olduğu ay mayıs'tır.
- B) Deneme en fazla ağustos ayında satılmıştır.
- C) Roman tüm aylarda en çok satan, biyografi en az satan tür olmuştur.
- D) Nisan ayında şiir kitaplarıyla deneme kitapları eşit sayıda satılmıştır.

6. Araştırmalar, Türkiye'de basılı kitap sayısının her geçen gün arttığını gösteriyor. Örneğin 2008 yılında 32 bin kitap basılmışken 2014 yılında bu sayı 50 bini aştı. Türkiye'deki okuyucuların tercih ettikleri kitap türlerine göre oranı ise şöyledir: Yüzde 55'i roman, yüzde 25'i şiir, yüzde 13'ü düşünce, yüzde 7'si kişisel gelişim kitapları okuyor.

Bu parçaya göre Türkiye'deki okuyucuların tercih ettikleri kitap türlerine göre oranı aşağıdaki grafiklerin hangisinde doğru gösterilmiştir?

